


Fiche d'exercices 14

Les nombres de 10 à 19 — Les doubles et les moitiés
La numération décimale

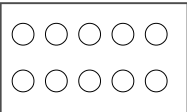
La numération



1

écrit

Ecris la table des doubles.



..... + = | + = | + = | + = | + =

2

écrit

Ecris les résultats des additions.

	+		=
10	+	=
	+		=
10	+	=
	+		=
10	+	=
	+		=
10	+	=
	+		=
10	+	=

	+		=
10	+	=
	+		=
10	+	=
	+		=
10	+	=
	+		=
10	+	=
	+		=
10	+	=

3



Dessine les pièces et/ou les billets.



13 €



4

écrit

Ecris les nombres .

11 - 13 - 15 - 14 - 12




14 - 15 - 12 - 11 - 13



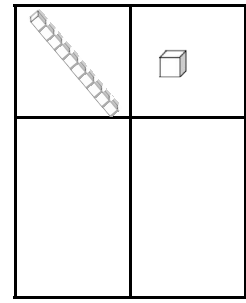
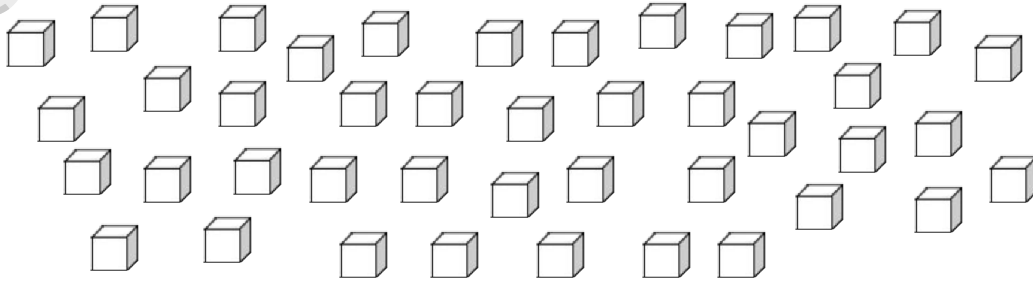
5


écrit

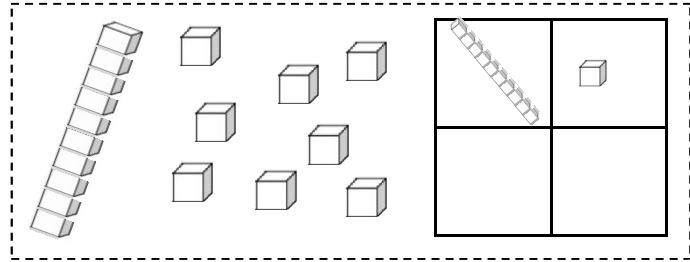
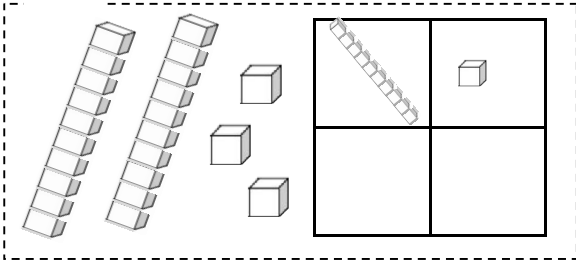
Ecris les nombres dans les cases.











6  **Entoure** les cubes pour créer des paquets de 10.



7  **Ecris** dans les tableaux les nombres de dizaines et d'unités.



8  **Complète** les boîtes et les additions.

		+	=			+	=
		+	=			+	=

9  **complète** les soustractions.

••••• •••••	••••• •••••	••••• •••••
10 - 8 =	9 - 7 =	8 - 6 =
10 - 6 =	9 - 5 =	8 - 4 =
10 - 4 =	9 - 3 =	8 - 2 =


Ecris le résultat des additions.

5 + 1 + 4 =	10 + 4 =	5 + 5 =
5 + 2 + 3 =	10 + 3 =	4 + 6 =
5 + 0 + 5 =	10 + 5 =	3 + 7 =
5 + 3 + 2 =	10 + 1 =	2 + 8 =

Fiche d'exercices 14

Les nombres de 10 à 19 — Les doubles et les moitiés
La numération décimale

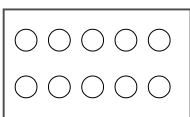
La numération



1

écrit

Ecris la table des doubles.



..... + = | + = | + = | + = | + =

..... + = | + =

2

écrit

Ecris les résultats des additions.

	+		=
10	+	=
	+		=
10	+	=
	+		=
10	+	=
	+		=
10	+	=
	+		=
10	+	=

	+		=
10	+	=
	+		=
10	+	=
	+		=
10	+	=
	+		=
10	+	=
	+		=
10	+	=

3



Dessine les pièces et/ou les billets.



16 €



21 €

4

écrit

Ecris les nombres .

16 - 15 - 19 - 17 - 18

--	--	--	--	--


15 - 19 - 17 - 14 - 16


--	--	--	--	--

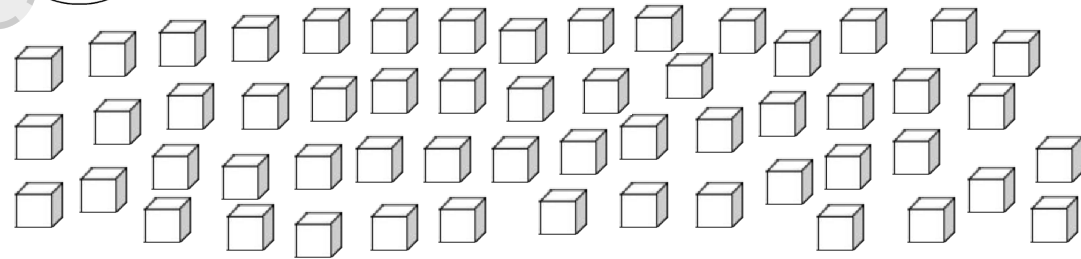
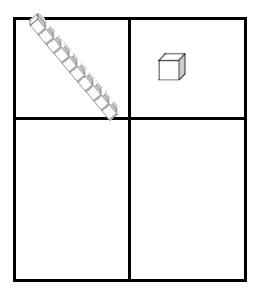
5

écrit

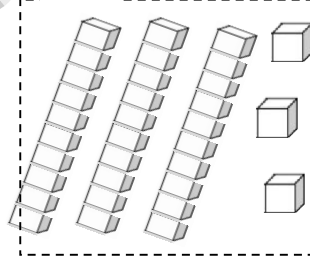
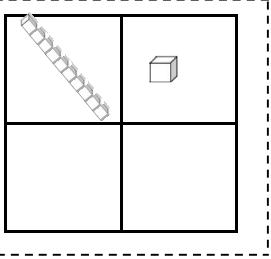
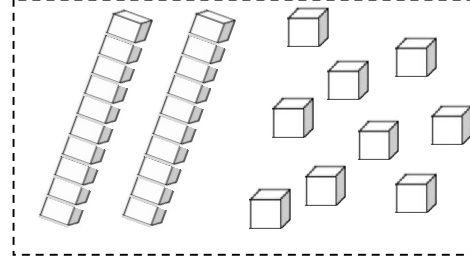
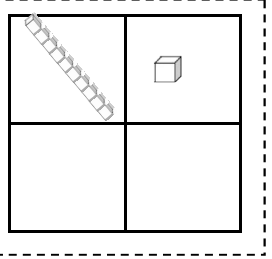
Ecris les nombres dans les cases.







6  **Entoure** les cubes pour créer des paquets de 10.








7  **Ecris** dans les tableaux les nombres de dizaines et d'unités.


8  **Complète** les boîtes et les additions.


 + =
 
 + =


 + =
 
 + =

9  **Complète** les soustractions.

••••• •••••	••••• •••••	••••• •••••
10 - 8 =	9 - 7 =	8 - 6 =
10 - 6 =	9 - 5 =	8 - 4 =
10 - 4 =	9 - 3 =	8 - 2 =
10 - 2 =	9 - 1 =	8 - 0 =

10  **Ecris** le résultat des additions.


6 + 1 + 3 =	10 + 9 =	9 + 1 =
1 + 2 + 7 =	10 + 8 =	8 + 2 =
1 + 0 + 9 =	10 + 7 =	7 + 3 =
1 + 1 + 8 =	10 + 6 =	6 + 4 =
1 + 3 + 6 =	10 + 6 =	6 + 4 =



Fiche d'exercices 14

Les nombres de 10 à 19 — Les doubles et les moitiés
La numération décimale

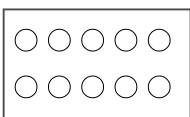
La numération



1

écrit

Ecris la table des doubles.



..... + = + = + = + = + =
..... + = + = + = + = + =

2

écrit

Ecris les résultats des additions.

	+		=
	+		=
	+		=
	+		=
	+		=

	+		=
	+		=
	+		=
	+		=
	+		=

3



Dessine les pièces et/ou les billets.



19 €



28 €

4

écrit

Ecris les nombres .

21 - 19 - 25 - 14 - 5

--	--	--	--	--

1 - 29 - 24 - 28 - 27


--	--	--	--	--

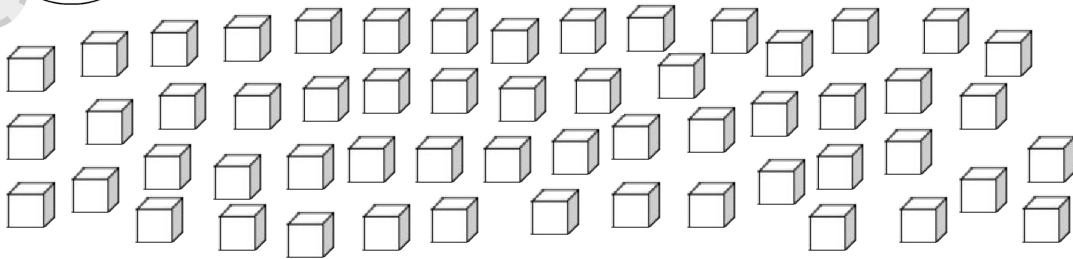
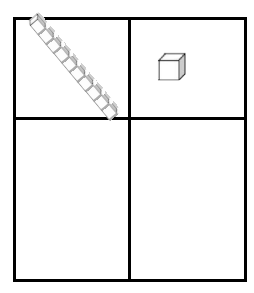
5


écrit

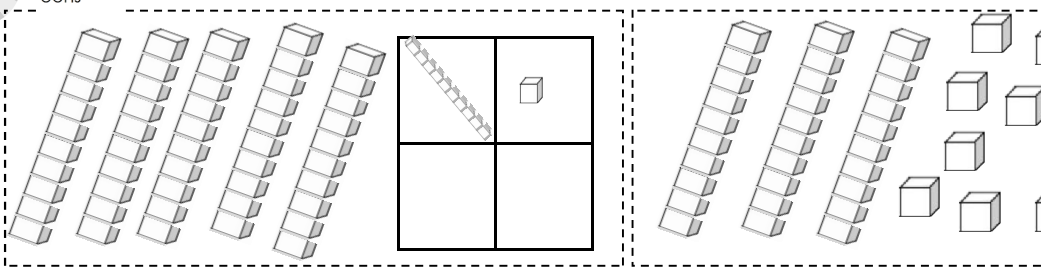
Ecris les nombres dans les cases.






6  **Entoure** les cubes pour créer des paquets de 10.








7  **Ecris** dans les tableaux les nombres de dizaines et d'unités.






8  **Complète** les boîtes et les additions.

  + =

  + =


  + =

  + =

9  **Complète** les soustractions.

•••••	•••••	•••••	•••••
10 - 8 =	9 - 9 =	8 - 8 =	7 - 6 =
10 - 6 =	9 - 7 =	8 - 6 =	7 - 5 =
10 - 4 =	9 - 5 =	8 - 4 =	7 - 4 =
10 - 2 =	9 - 3 =	8 - 2 =	7 - 3 =
10 - 0 =	9 - 1 =	8 - 0 =	7 - 2 =

•••••	•••••	•••••	•••••
8 - 8 =	7 - 6 =	7 - 5 =	7 - 4 =
8 - 6 =	7 - 5 =	7 - 4 =	7 - 3 =
8 - 4 =	7 - 4 =	7 - 3 =	7 - 2 =
8 - 2 =	7 - 3 =	7 - 2 =	
8 - 0 =	7 - 2 =		

10  **Ecris** le résultat des additions.

6 + 1 + 3 =	10 + 9 =
1 + 2 + 7 =	10 + 8 =
1 + 0 + 9 =	10 + 7 =
1 + 1 + 8 =	10 + 6 =
1 + 3 + 6 =	10 + 6 =
1 + 4 + 5 =	10 + 5 =

9 + 1 =	9 + 2 - 1 =
8 + 2 =	8 + 4 - 2 =
7 + 3 =	7 + 4 - 1 =
6 + 4 =	6 + 6 - 2 =
5 + 5 =	9 - 3 + 4 =
4 + 6 =	8 - 3 + 5 =

